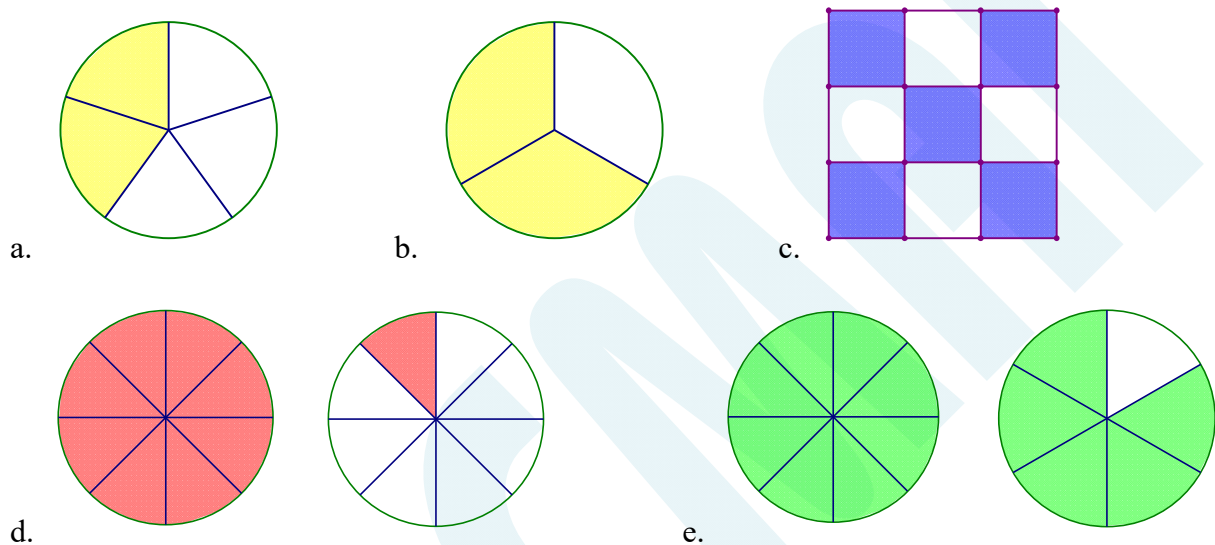


KHÁI NIỆM VỀ PHÂN SỐ

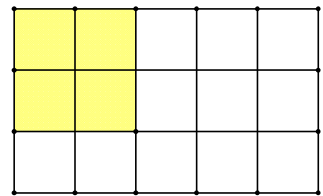
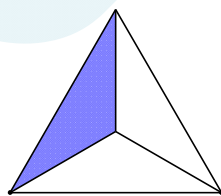
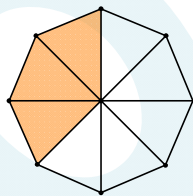
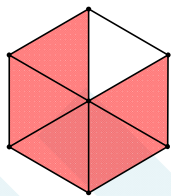
Bài tập tự luyện

Giáo viên: Nguyễn Thị Huệ

Bài 1. Phần tô màu trong các hình dưới đây được biểu diễn cho phân số nào ?



Bài 2. Nối phân số với hình vẽ minh họa của nó.



$$\frac{4}{15}$$

$$\frac{5}{6}$$

$$\frac{3}{8}$$

$$\frac{1}{3}$$

Bài 3. Hoàn thành bảng sau.

Viết	Tử số	Mẫu số	Đọc
$\frac{2}{3}$			
	60	19	

$\frac{171}{26}$			
$\frac{11}{100}$			Mười một phần trăm
$\frac{51}{1000}$			Năm mươi một phần nghìn

Bài 4. Viết số thích hợp vào chỗ trống.

a) $1 = \frac{4}{\dots\dots\dots} = \frac{\dots\dots\dots}{95} = \frac{19}{\dots\dots\dots}$ b) $0 = \frac{\dots\dots\dots}{1215} = \frac{\dots\dots\dots}{2019}$

Bài 5. Viết các thương sau dưới dạng phân số thích hợp.

a) $4 \div 9 =$ b) $56 \div 12 =$ c) $5 \div 3 =$ d) $49 \div 123 =$

Bài 6. Viết tất cả các phân số có tổng tử số và mẫu số là 20.

Bài 7. Viết tất cả các phân số có tích tử số và mẫu số là 30.

Bài 8. Tìm phân số tối giản khi cộng cả tử và mẫu số của phân số với mẫu của phân số đó được phân số mới gấp 3 lần phân số ban đầu.

Bài 9. Hiệu của mẫu số và tử số là 10; Ti số là $\frac{2}{3}$.

Bài 10. Năm nay mẹ 36 tuổi, mẹ hơn con 29 tuổi. Hỏi tuổi con bằng bao nhiêu phần tuổi mẹ ?

Giáo viên : Nguyễn Thị Huệ

Nguồn :  Hocmai